










✚ Görsel ve harflerle ipucu verilen kelimeleri bulup karşlarına yazınız.

|   |   |   |   |  |  |   |   |  |
|---|---|---|---|--|--|---|---|--|
|  | M   | → |   | PA   |  | → |   |  |
|  |   | → |   |  | L  | → |   |  |
| H   |  | → |   |   |  | → |   |  |
| 10  |  | I | → | T  |  | M | → |  |

✚ İki resim arasındaki 10 farkı bulup kırmızı kalemle işaretleyiniz.

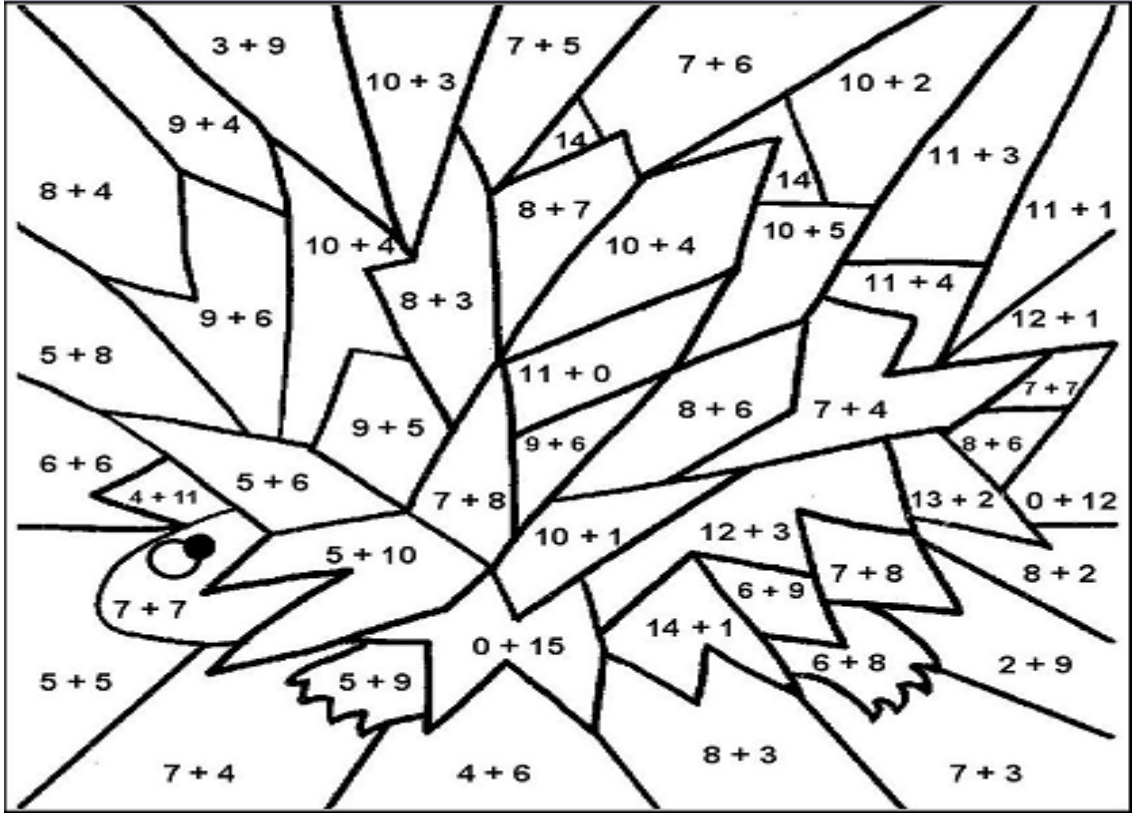


✚ Hayvanların altlarına isimlerini yazınız ve istediğiniz renklerle boyayınız.

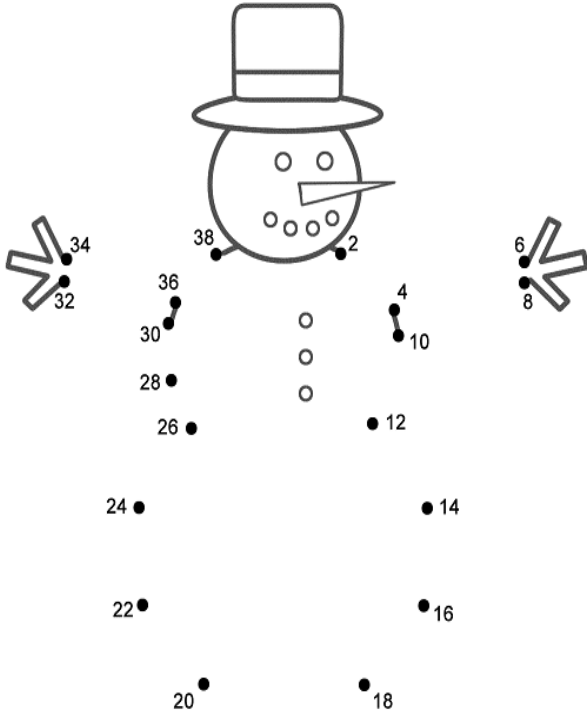


✚ Toplama işlemlerinin alanlarını, sonuçlarına göre istenen renklerle boyayınız.

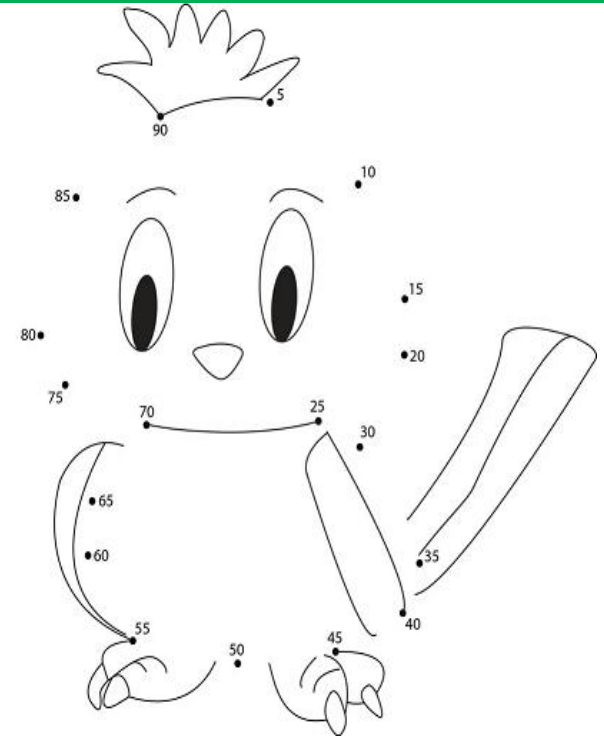
|      |       |      |         |      |            |
|------|-------|------|---------|------|------------|
| 10 → | Sarı  | 11 → | Turuncu | 12 → | Mavi       |
| 13 → | Yeşil | 14 → | Siyah   | 15 → | Kahverengi |









2 ile başlayıp ikişer ritmik sayarak resmi tamamlayınız ve boyayınız.




5 ile başlayıp beşer ritmik sayarak resmi tamamlayınız ve boyayınız.



**Zıt anlamları verilen kelimelere uygun  
gizimler yapınız.**

|  |        |        |
|--|--------|--------|
|   | mutlu  | üzgün  |
|   | büyük  | küçük  |
|   | yukarı | aşağı  |
|  | yaşlı  | genç   |
|   | kısa   | uzun   |
|   | gece   | gündüz |


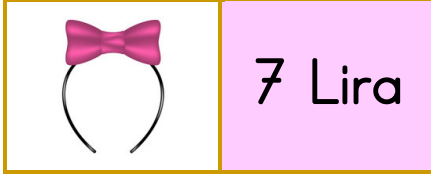
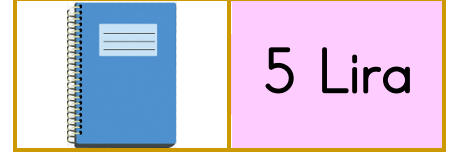
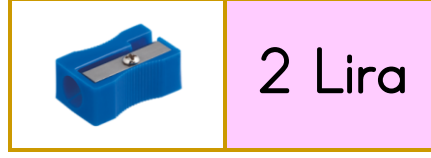
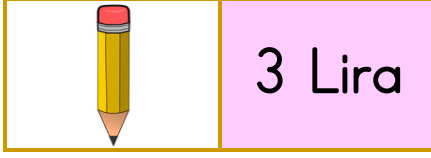
**Resimde istenen vücut bölümlerini  
yazınız.**



**Resimlerdeki aktivitelere uygun saat oluşturup altlarına okunuşlarını yazınız.**

| Kalkış  | Kahvaltı  | Ders Saati  | Televizyon   | Yatış   |
|---|---|---|--|---|
|  |  |  |  |  |
|  |  |  |  |  |
|   |   |   |  |   |

✚ Tablodaki nesnelerin satış fiyatlarına göre problemleri çözünüz.



**Soru-1)** Sevgi, kalem ve defter aldı. Kaç lira ödemesi gerekir?



Çözüm:

**Soru-2)** Hamza'nın 20 lirası var. Dondurma ve açacak alırsa geriye kaç lirası kalır?



Çözüm:

**Soru-3)** Funda, defter ve taç aldı. Kaç Lira ödeme yapması gerekir?




Çözüm:

**Soru-2)** Oyuncak araba, açacak ve defter alan Akif, kaç lira ödeyecek?



Çözüm:

✚ Geometrik şekilleri, istenen renklerde boyayınız.



|            |         |
|------------|---------|
| Üçgen      | → Mavi  |
| Kare       | → Yeşil |
| Dikdörtgen | → Pembe |
| Çember     | → Sarı  |